

Jeu concours

LE TOUR DE FRANCE DE
FOXIBULLE LA RENARDE



SEMAINE DES MATHÉMATIQUES
06 AU 15 MARS

- 1. IMPRIMEZ LA CARTE DE FRANCE DES DÉPARTEMENTS, ET AFFICHEZ-LA EN CLASSE**
- 2. RÉSOLVEZ UN EXERCICE ADAPTIV'MATH AVEC VOS ÉLÈVES CHAQUE JOUR
LES EXERCICES SERONT POSTÉS DU 06 AU 10 MARS SUR NOS RÉSEAUX SOCIAUX**
- 3. COLORIEZ LE BON DÉPARTEMENT FRANÇAIS EN FONCTION DU RÉSULTAT**
- 4. PARTAGEZ VOS RÉPONSES À LA FIN DE LA SEMAINE**

FAITES UNE PHOTO DE VOTRE CARTE DE FRANCE COMPLÉTÉE, ET PARTAGEZ-LÀ SUR LES RÉSEAUX SOCIAUX - N'OUBLIEZ PAS DE NOUS TAGUER !

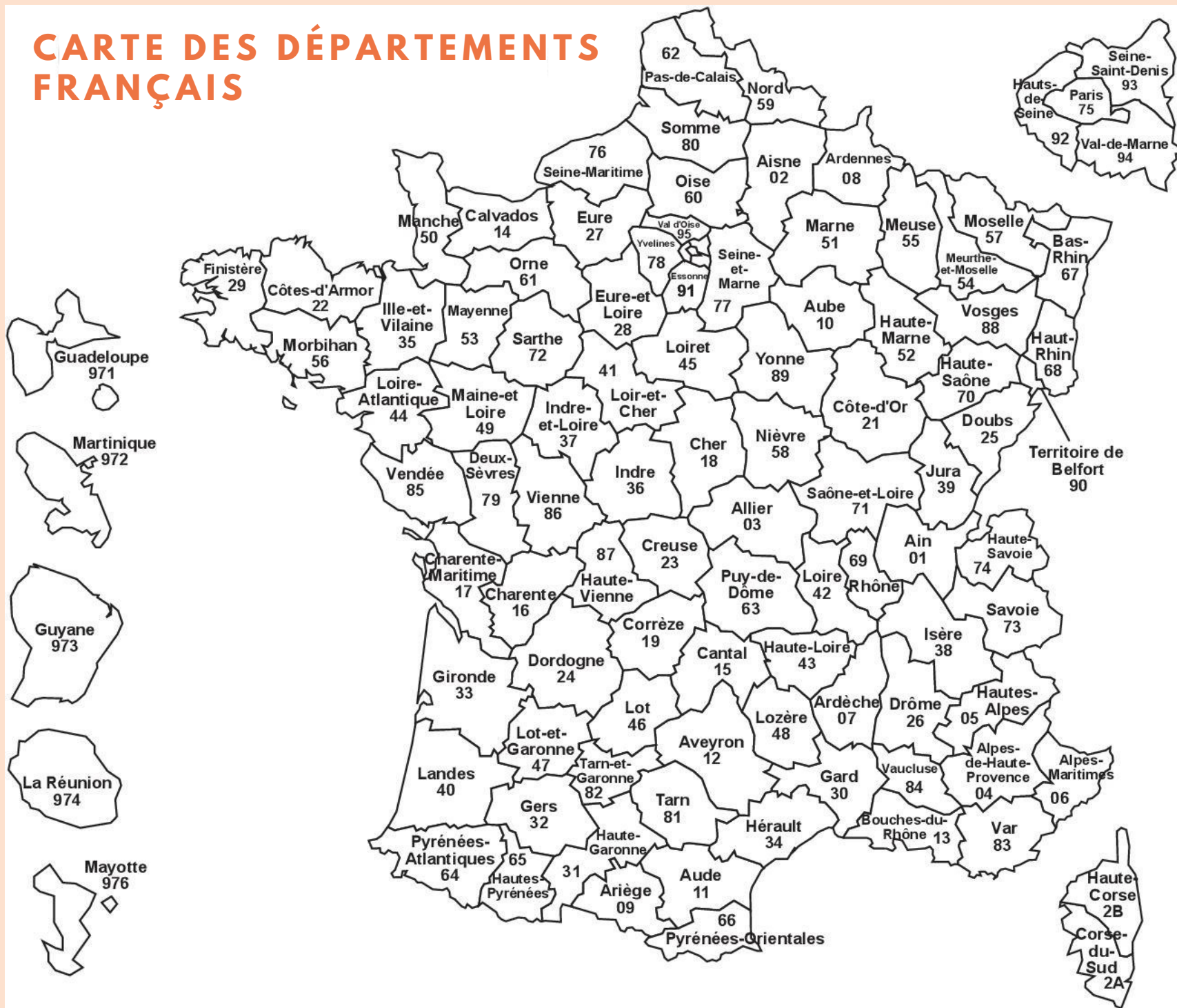


#SEMAINEDESMATHS
#ADAPTIVMATH

@ADAPTIVM



CARTE DES DÉPARTEMENTS FRANÇAIS




CE MATIN, LOUISE ARRIVE AVEC DES BILLES À L'ÉCOLE. À LA RÉCRÉATION, ELLE PERD 4 BILLES. IL LUI RESTE 17 BILLES. COMBIEN DE BILLES AVAIT-ELLE CE MATIN ?



QUEL NOMBRE A LA VALEUR LA PLUS GRANDE ?

87

72



**ANGÈLE EST RESTÉE 3 JOURS À PARIS ET
8 JOURS À BREST.
COMBIEN DE JOURS A DURÉ SON VOYAGE ?**






**NOUS DEVIONS VOYAGER PENDANT 12 SEMAINES CETTE ANNÉE MAIS
4 SEMAINES ONT ÉTÉ ANNULÉES.
PENDANT COMBIEN DE SEMAINES AVONS-NOUS FINALEMENT VOYAGÉ ?**

COMPLÈTE LA BOITE À NOMBRES.



12	:	:
4	:	:
?	:	:



**DANS LE PORT, POUR GARER LES BATEAUX,
ON A INSTALLÉ 5 RANGÉES DE 7 BOUÉES.
COMBIEN Y A-T-IL DE BOUÉES ?**

